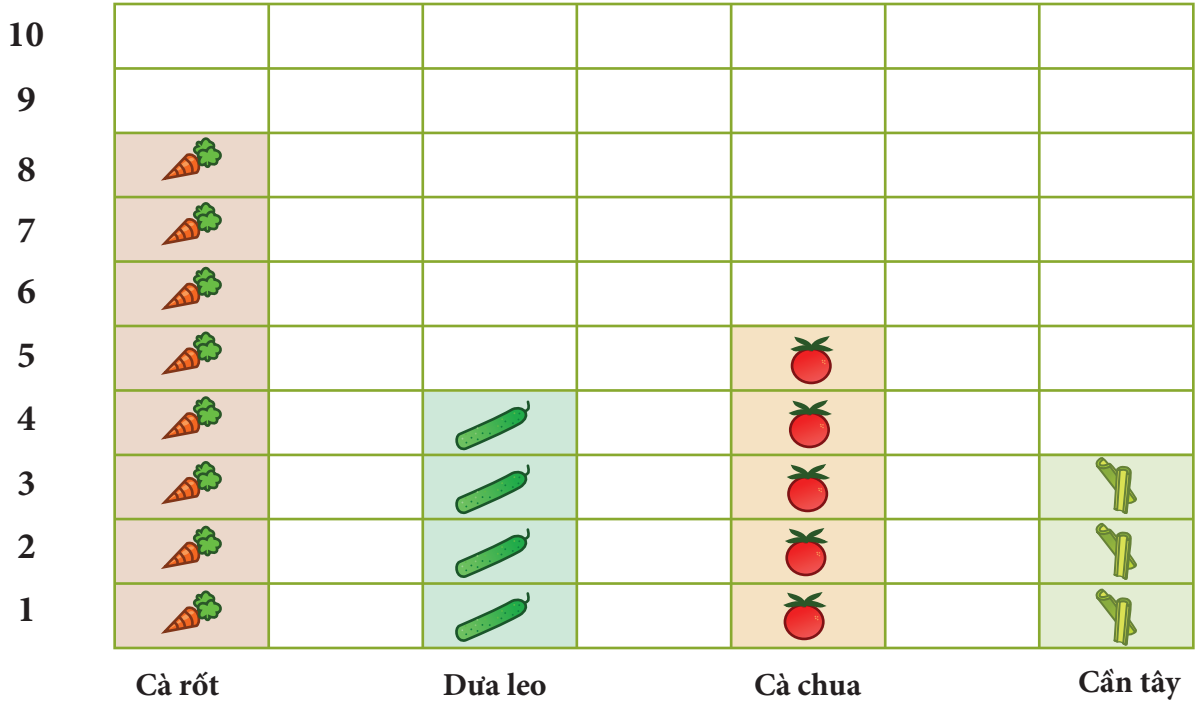


What Do We Know About Vegetables?

Name _____ Date _____

Lớp của thầy Johnson đã làm một cuộc khảo sát về các loại rau yêu thích của họ. Dữ liệu họ thu thập được thể hiện trong biểu đồ thanh bên dưới.



Câu hỏi:

1. Có bao nhiêu trẻ em được khảo sát trong tất cả?

2. Những đứa trẻ thích ăn cà rốt nhất ngồi với những đứa trẻ thích ăn dưa chuột nhất. Có bao nhiêu đứa trẻ ở đó trong tất cả?

3. Những đứa trẻ thích ăn cà chua nhất đã về nhà sớm. Còn lại bao nhiêu đứa trẻ?

Name: _____

Date: _____

Subtraction Word Problems



1. Ana có 18 quả táo. Cô ấy đã cho đi 5 cái. Ana còn lại bao nhiêu quả táo?

2. Bernard đã thu thập được 17 viên bi. Anh ta bị mất 11 viên bi. Bernard còn lại bao nhiêu viên bi?

3. Samuel có 15 xu. Anh ấy đã tiêu 5 trong số đó. Samuel còn lại bao nhiêu xu?

4. Nyleah đã làm 11 chiếc bánh quy. Cô ấy đã cho đi 4 người trong số họ. Nyleah còn lại bao nhiêu cái bánh quy?

5. Raymond có 9 quả táo. Anh ấy đã ăn 3 trong số chúng. Raymond còn lại bao nhiêu quả táo?

Name: _____

Date: _____

Addition Word Problems



1. Noah có 12 cuốn sách. Anh ấy có thêm 5 cuốn sách nữa. Noah có tất cả bao nhiêu cuốn sách?

2. Bonnie tìm thấy 8 tảng đá trên vỉa hè và 7 tảng đá ở sân sau của cô ấy. Bonnie đã tìm thấy bao nhiêu tảng đá trong tất cả?

3. Edward có 5 chiếc ô tô đồ chơi. Anh ấy có thêm 8 chiếc ô tô đồ chơi. Edward có tất cả bao nhiêu chiếc ô tô đồ chơi?

4. Mariela đã thu thập được 11 chiếc lông vũ. Sau đó cô ấy tìm thấy thêm 3 chiếc lông nữa. Mariela có tất cả bao nhiêu chiếc lông?


5. LaMonte đã làm 14 chiếc bánh quy. Sau đó anh ấy làm thêm 5 cái bánh quy nữa. Tất cả LaMonte có bao nhiêu cookie?

Wordy Word Problems

Viết một câu cộng hoặc trừ cho mỗi bài toán.


Farmer Green đã thu thập 36 quả trứng từ những con gà của mình. Vợ anh đã dùng 8 chiếc trong số chúng để làm bữa sáng. Farmer Green đã để lại bao nhiêu quả trứng?





Có 42 con cừu đang chăn thả trên đồng cỏ của Farmer Green. Mỗi con cừu có 1 con cừu non. Có bao nhiêu cừu và cừu con trên đồng cỏ?


Farmer Green cần 100 cây táo cho vườn cây ăn quả của mình. Bây giờ anh ta có 53 cây táo. Người đó cần mua bao nhiêu cây táo?





Bà Green đã mang 75 lọ mứt tự làm đến chợ nông sản. Cô đã bán được 49 lọ. Cô ấy còn lại bao nhiêu lọ?

Farmer Green có 22 con bò nâu, 16 con bò đen và 4 con bò rậm nắng. Anh ta có tất cả bao nhiêu con bò?



Farmer Green trồng 18 hàng ngô trước bữa trưa. Anh ta trồng thêm 31 hàng sau bữa trưa. Hôm đó người ấy trồng được bao nhiêu hàng ngô?