




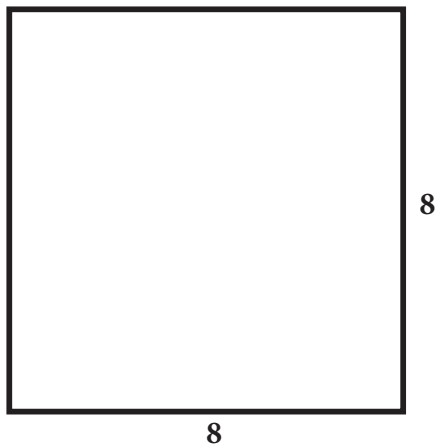
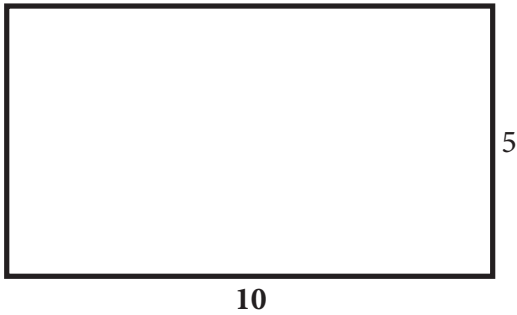
Finding Area: Level 1



Giúp Piggy chọn một căn phòng có diện tích lớn nhất tính bằng feet vuông. Tính diện tích mỗi phòng rồi viết câu trả lời ở giữa phòng.

Tô màu trong cái lớn nhất. Hãy nhớ rằng:

Diện tích = Chiều rộng (W) x Chiều dài (L)



Name: _____

Date: _____

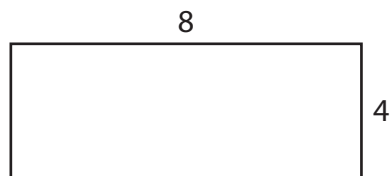
Measurement Learning Check



Phần 1: Diện tích

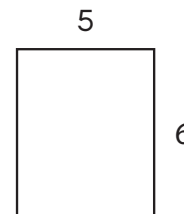
Hướng dẫn: Tìm diện tích của các hình bên dưới. Viết câu trả lời của bạn vào chỗ trống.

1.



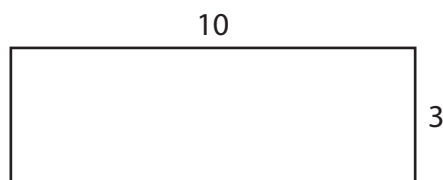
Diện tích = _____ đơn vị hình vuông

2.



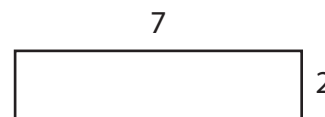
Diện tích = _____ đơn vị hình vuông

3.



Diện tích = _____ đơn vị hình vuông

4.

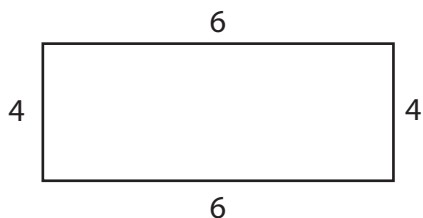


Diện tích = _____ đơn vị hình vuông

Phần 2: Chu vi

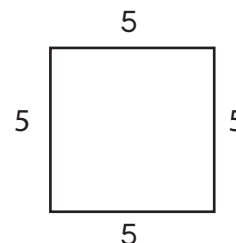
Hướng dẫn: Tìm chu vi của các hình dưới đây. Viết câu trả lời của bạn vào chỗ trống.

1.



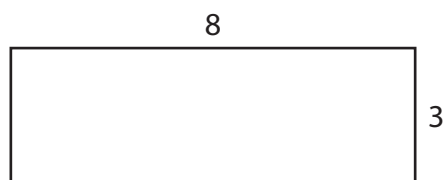
Chu vi = _____ đơn vị

2.



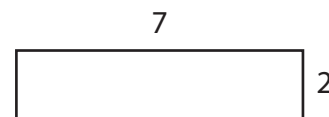
Chu vi = _____ đơn vị

3.



Chu vi = _____ đơn vị

4.



Chu vi = _____ đơn vị

Name: _____

Date: _____

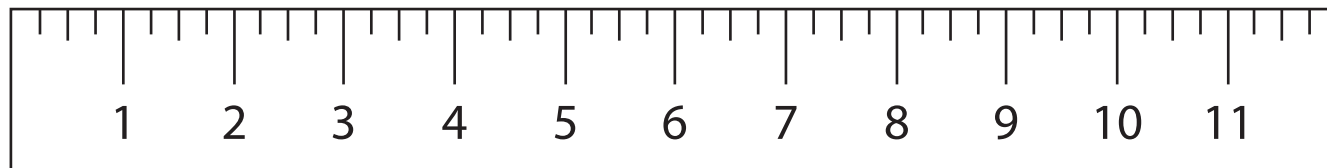
Measurement Learning Check



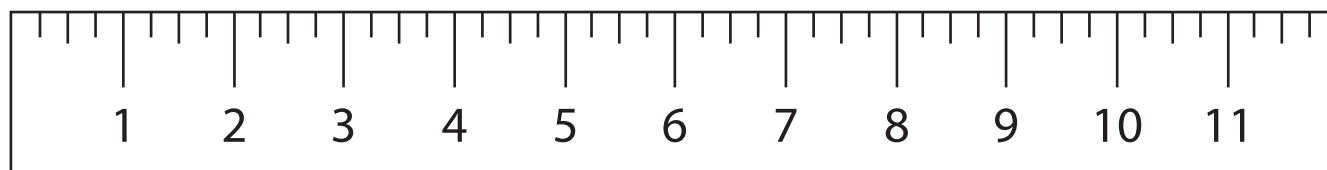
Phần 1: Đo lường

Chỉ dẫn: Đo chiều dài của các dòng bên dưới tính bằng inch. Ghi lại câu trả lời của bạn vào chỗ trống cho sẵn.

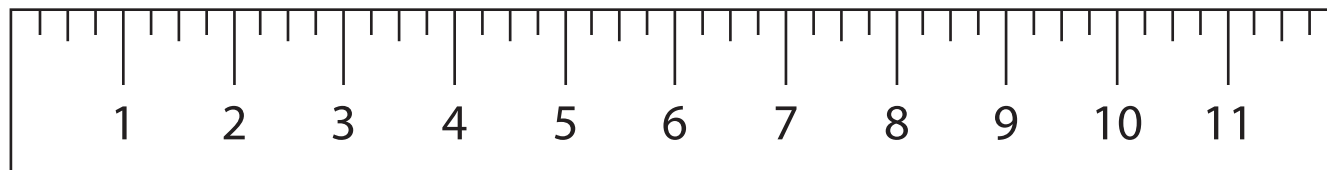
1. _____ inches



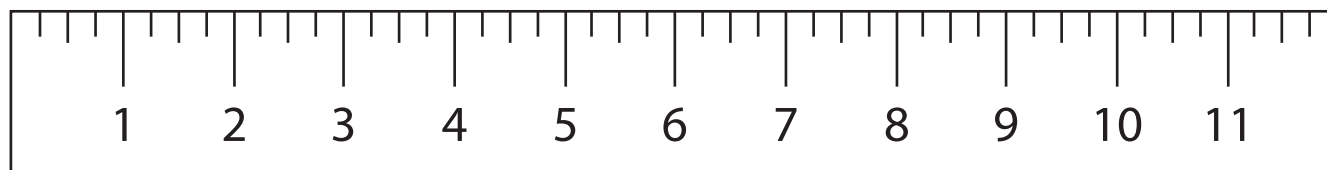
2. _____ inches



3. _____ inches



4. _____ inches



5. Hãy vẽ chiều dài của $5 \frac{1}{4}$ inches

