

Two-Step Multiplication Word Problems

Hướng dẫn: Giải các bài toán đố.

VÍ DỤ:

Hai chị em mỗi người làm 25 cái bánh. Mẹ của họ ăn 10 cái bánh quy. Họ còn lại bao nhiêu cookie? Viết phương trình biểu diễn từng bước của bài toán.


$$25 \times 2 = 50$$

$$50 - 10 = 40 \text{ cookies}$$

Hoặc

$$25 + 25 = 50$$

$$50 - 10 = 40 \text{ cookies}$$



1. Maria và em họ Jose đang đếm tiền của họ. Maria có 25 xu. Nếu Jose tìm thấy thêm 5 đồng xu nữa để bổ sung vào bộ sưu tập hiện có của mình, anh ta sẽ có gấp đôi số xu mà Maria có. Jose có bao nhiêu xu?
2. Charlotte cần 58 quả táo để nướng đủ số bánh táo cho hội chợ quận. Cô ấy có 40 quả táo. Nếu bán 6 túi táo thì Charlotte cần mua thêm bao nhiêu túi táo?
3. Eugene đã trồng 3 luống cỏ trong vườn của mình. Mỗi chiếc có chiều dài 2 feet x rộng 4 feet. Tổng diện tích của 3 chiếc lớn trong khu vườn của Eugene là bao nhiêu?
4. Jim và Joe tưới 30 cốc nước cho vườn rau của họ trong suốt cả tuần. Jim tưới vườn vào Chủ Nhật, Thứ Hai, Thứ Ba và Thứ Tư. Mỗi ngày, anh dùng 4 cốc nước. Joe tưới vườn vào Thứ Năm, Thứ Sáu và Thứ Bảy. Mỗi ngày, anh dùng 3 cốc nước. Hỏi cuối tuần còn lại bao nhiêu cốc nước trong bình tưới?

Two-Step Multiplication Word Problems

5. Adina mua 45 miếng sô cô la. Cô cho 4 người bạn của mình 8 viên sô cô la. Adina còn lại bao nhiêu miếng sô cô la?
6. Aren đã chạy bốn lần chạy 20 yard vào thứ Tư và chạy 20 yard vào thứ Năm. Aren đã chạy tổng cộng bao nhiêu yard vào Thứ Tư và Thứ Năm?
7. Bà Chan dạy viết. Cô có 16 học sinh trong lớp và mỗi học sinh có một cây bút chì. Thêm 5 học sinh nữa tham gia lớp học và mỗi em có 3 chiếc bút chì. Lớp tập viết của bà Chan có bao nhiêu cây bút chì?
8. Vào đầu tuần, Eito đã mua tổng cộng 18 pound gạo trong bao 2 pound. Đến cuối tuần, Eito còn lại 4 cân gạo. Hỏi người đó đã dùng bao nhiêu bao gạo loại 2 pound?
9. Tamika và Sonia đang gói quà cho ngày lễ. Tamika cắt một đoạn ruy băng dài 60 inch thành 2 phần và đưa cho Sonia một trong những đoạn ruy băng. Đoạn ruy băng của Tamika dài 20 inch. Sonia cắt ruy-băng thành 2 mảnh bằng nhau. Một trong những đoạn ruy băng của Sonia dài bao nhiêu?
10. Bà Gomez đổ 60 ounce nước cam vào 9 cốc để chuẩn bị cho bữa tiệc sinh nhật của mình. Cô ấy đong một lượng nước cam bằng nhau vào 8 cốc đầu tiên. Cô ấy đổ số tiền còn lại vào cốc thứ chín, là 4 ounce. Có bao nhiêu ounce nước cam trong 8 cốc đầu tiên?

Add It Up!

Giải từng bài toán cộng từ.

Pipa đi hái dâu cùng chị gái. Pipa hái 56 quả dâu tây. Em gái cô ấy hái được 38. Họ đã hái tất cả bao nhiêu quả dâu tây?



Leah có một bộ sưu tập gấu bông với 64 con gấu. Dì của cô đã tặng thêm cho cô 16 chú gấu để thêm vào bộ sưu tập của mình. Leah hiện có bao nhiêu con gấu?



Kira sở hữu 42 chiếc nơ cài tóc khác nhau. Bà của cô ấy đã tặng cô ấy 23 chiếc nơ nhân dịp sinh nhật của cô ấy. Kira hiện có bao nhiêu nơ cài tóc?



John và cha anh ấy đi câu cá. John bắt được 17 con cá. Bố anh ấy đã bắt được 11. Họ đã bắt được bao nhiêu con cá trong tất cả?



Dan đã tặng cho người bạn Chris 14 ngôi sao của mình. Anh ấy cũng tặng cho người bạn Jenna của mình 20 miếng dán ngôi sao. Dan đã tặng tất cả bao nhiêu hình dán ngôi sao cho các bạn của mình?



Trong suốt mùa hè, Kenta đã đọc 8 cuốn sách bí ẩn, 10 cuốn khoa học viễn tưởng và 13 cuốn sách kinh dị. Kenta đã đọc bao nhiêu cuốn sách trong suốt mùa hè?



Repeated Addition on the Farm

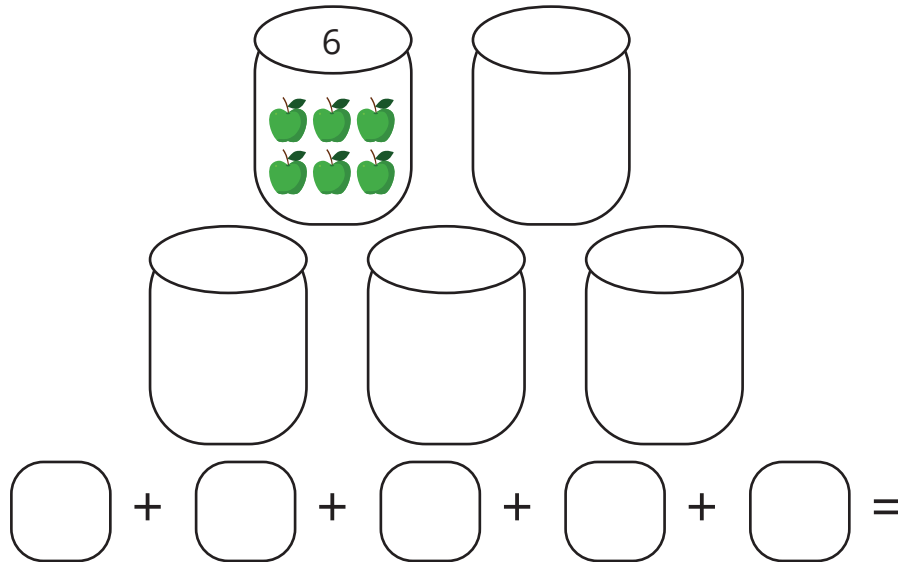
Name: _____

Date: _____

Hoàn thành hình minh họa cho mỗi bài tập và trả lời các câu hỏi tiếp theo.

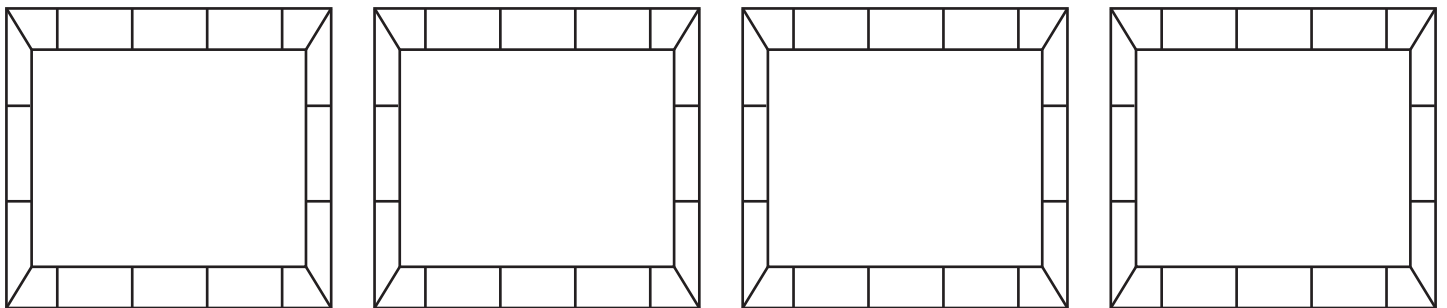
1. Karly đang giúp thu hoạch trong trang trại của ông cô ấy. Cô ấy có 5 thùng táo. Nếu cô ấy bỏ 6 quả táo vào mỗi thùng thì cô ấy đã thu hoạch được bao nhiêu quả táo?

Hoàn thành hình vẽ bên dưới và sử dụng phép cộng để giải bài toán.



Viết một bài toán nhân để biết Karly thu hoạch được bao nhiêu quả táo.

2. Chó chăn cừu Shep đã nhốt những chú cừu non mới vào trong chuồng của chúng. Có 4 chuồng với 7 con cừu trong mỗi chuồng. Tổng cộng có bao nhiêu con cừu non?



Sử dụng phép cộng để giải bài toán. _____

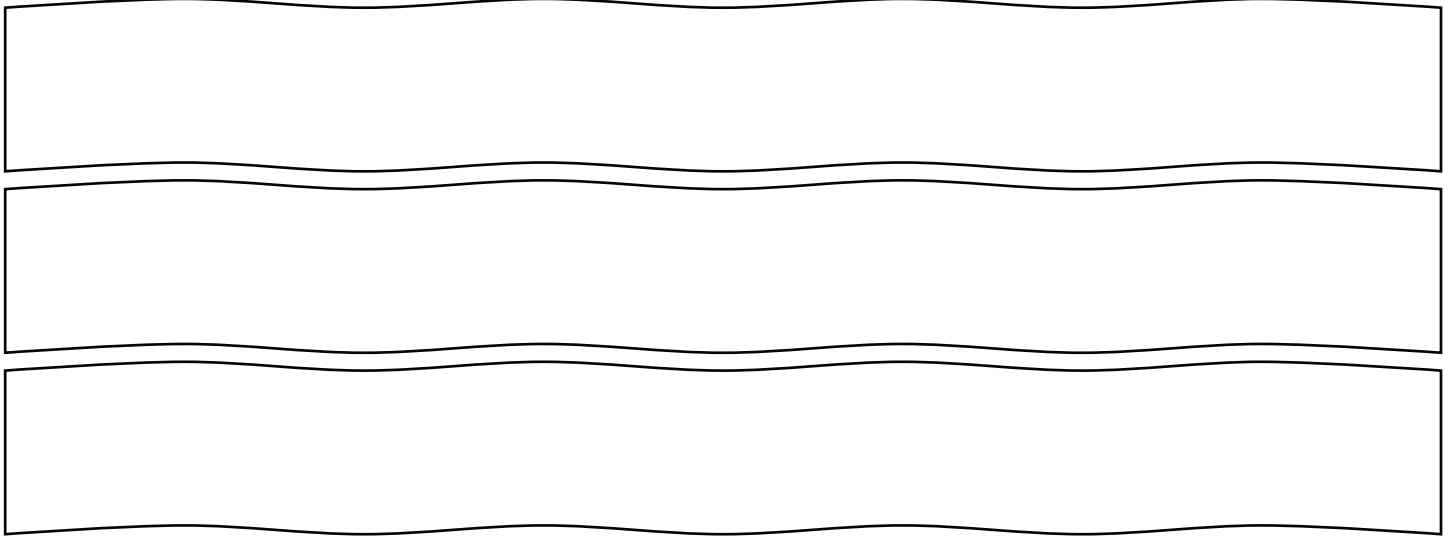
Viết một bài toán nhân để hiển thị có bao nhiêu cừu Shep chăn. _____

Repeated Addition on the Farm

Name: _____

Date: _____

3. Chú Peter đang gieo ngô trên cánh đồng. Có 3 hàng trong ruộng ngô và anh ta đang gieo 8 hạt mỗi hàng. Peter sẽ trồng tổng cộng bao nhiêu thân cây ngô?



Sử dụng phép cộng để giải bài toán. _____

Viết một phép nhân để biết Peter sẽ trồng bao nhiêu thân cây ngô.

4. Bà nội Tilly đang lấy trứng cho bữa sáng. Có 6 con gà mái trong chuồng. Mỗi con gà mái đẻ 4 quả trứng. Bà có thể thu được bao nhiêu quả trứng?

Hãy vẽ một bức tranh.

Sử dụng phép cộng để giải bài toán. _____

Viết một bài toán nhân để biết Bà có thể thu được bao nhiêu quả trứng.